

令和5年度

岡山白陵中学校入学試験問題

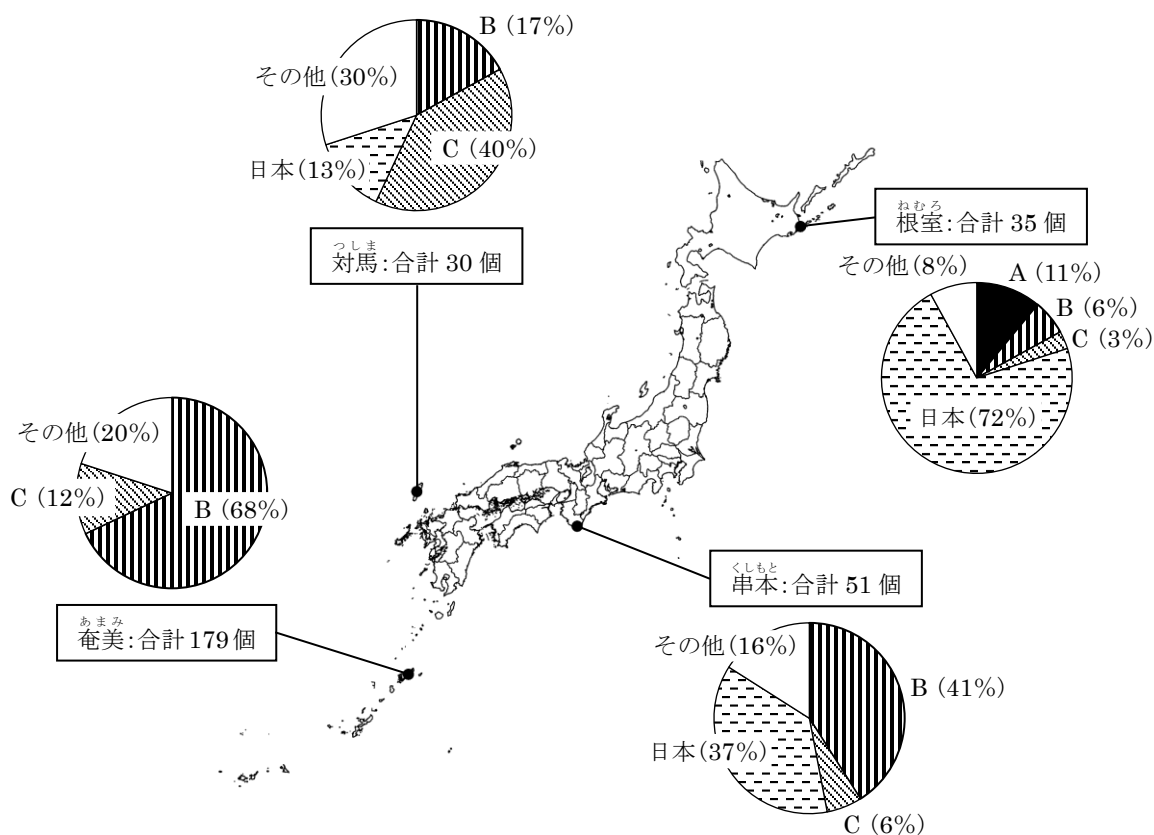
# 社 会

受験 番号	
----------	--

- 注 意
1. 時間は40分で80点満点です。
  2. 問題用紙と解答用紙の両方に受験番号を記入しなさい。
  3. 開始の合図があったら、まず問題が1ページから22ページまで、順になっているかどうかを確かめなさい。
  4. 解答は解答用紙の決められたところに書きなさい。
  5. 字数制限のあるものについては、句読点も1字に数えます。

1 日本の地理に関して、あとの問いに答えなさい。

問1 次の図1は、海岸に流れ着いたごみのうち、ペットボトルやキャップなどに印字された文字が確認できるものから、そのごみがどこの国から流れてきたのかを調べたものです。図1の円グラフ中のA～Cには日本周辺の中国、韓国、ロシアのいずれかが当てはまります。A～Cに当てはまる国名の組み合わせとして正しいものを、下の(ア)～(カ)から1つ選び、記号で答えなさい。



(『環境省 平成28年度漂着ごみ対策総合検討業務報告書』より作成)

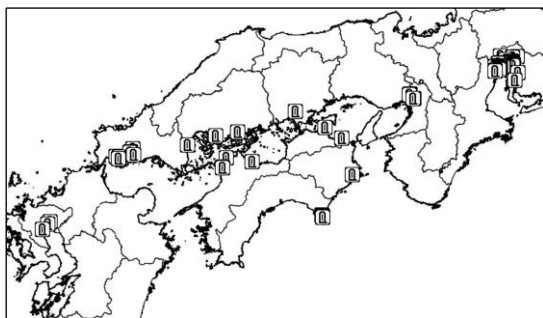
図1

	(ア)	(イ)	(ウ)	(エ)	(オ)	(カ)
A	中国	中国	韓国	韓国	ロシア	ロシア
B	韓国	ロシア	中国	ロシア	中国	韓国
C	ロシア	韓国	ロシア	中国	韓国	中国

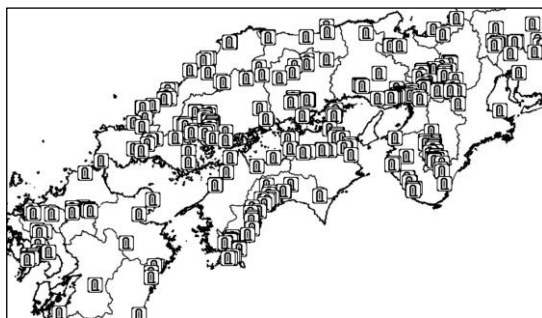
問2 次の図2は、2019年から採用された地図記号で、自然災害伝承碑しぜんさいがいでんしょうひを示しています。自然災害伝承碑は、過去に発生した自然災害にかかわることがらが記されている石碑せきひやモニュメントです。それらは当時の被災場所ひさいに建てられていることが多く、地図を通してその位置を伝えることにより、地域住民の防災意識の向上に役立つものと期待されています。下の図3のA～Cは洪水こうずい、高潮たかしお、津波つなみのいずれかの種類の自然災害伝承碑の分布を示したものです。種類と分布の組み合わせとして正しいものを、下の(ア)～(カ)から1つ選び、記号で答えなさい。



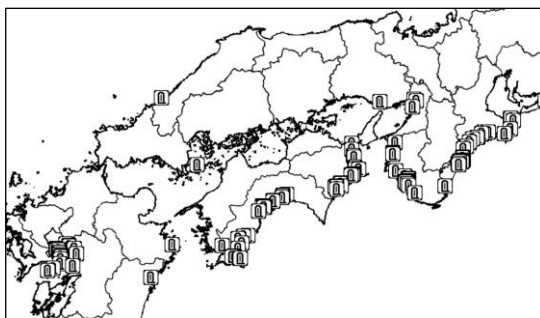
図2 自然災害伝承碑



A



B



C

(「国土地理院 地理院地図/GSI Maps」より作成)

図3

	(ア)	(イ)	(ウ)	(エ)	(オ)	(カ)
A	洪水	洪水	高潮	高潮	津波	津波
B	高潮	津波	洪水	津波	洪水	高潮
C	津波	高潮	津波	洪水	高潮	洪水

問3 次の記事は、たまねぎの価格について書かれたものです。また、次ページの図4はたまねぎの生産量(2020年)について上位5位までの都道府県と主な出荷時期を、図5はたまねぎの東京都中央卸売市場おろしうりしじょうの月別入荷実績(2020年)を表したものです。これらを見て、あとの問いに答えなさい。なお、記事中の空欄 **A** ~ **C** は、図5中の A~C の都道府県にそれぞれ対応しています。

### たまねぎの価格、平年比2倍のなぜ 天候不順、「産地リレー」不発

天候不順で食卓しょくたくに欠かせないたまねぎの価格高騰こうとうが続いている。農林水産省が24日発表した全国平均小売価格は過去5年の平均値の2.2倍となった。

ちゅうりやく  
(中略)

なぜ、たまねぎの価格がこれほどまでにつり上がっているのか。背景には天候不順による不作に加え、国内のたまねぎ需要じゅようを支えてきた「産地リレー」がうまく働かなかったことがある。

国内のたまねぎ生産は約7割を **A** が占めている。例年は夏ごろから **A** 産のたまねぎの収穫しゅうかくが始まり、翌年5月ごろまで市場に供給される。春先からは入れ替わるように全国2位の産地である **B** 産や、3位の **C** 産の出荷が増え、年間を通じて手ごろな価格で国産たまねぎが手に入るシステムができあがっていた。

しかし、昨年夏の干ばつで **A** 産の収量が減少し、昨年末から市場価格が上昇じょうしょうし始めた。**B** 産でも気温低下えいきょうの影響で生育おくが遅れたうえ、春先の雨などで収穫作業が進まず、市場に出回る時期おおはばが大幅に遅れた。この結果、全国でたまねぎ不足が深刻となり、市場価格が跳ね上がったというわけだ。

こうりやく  
(後略)

『毎日新聞』(2022年5月24日付)



図4 たまねぎの生産量（2020年）上位の5都道府県と主な出荷時期

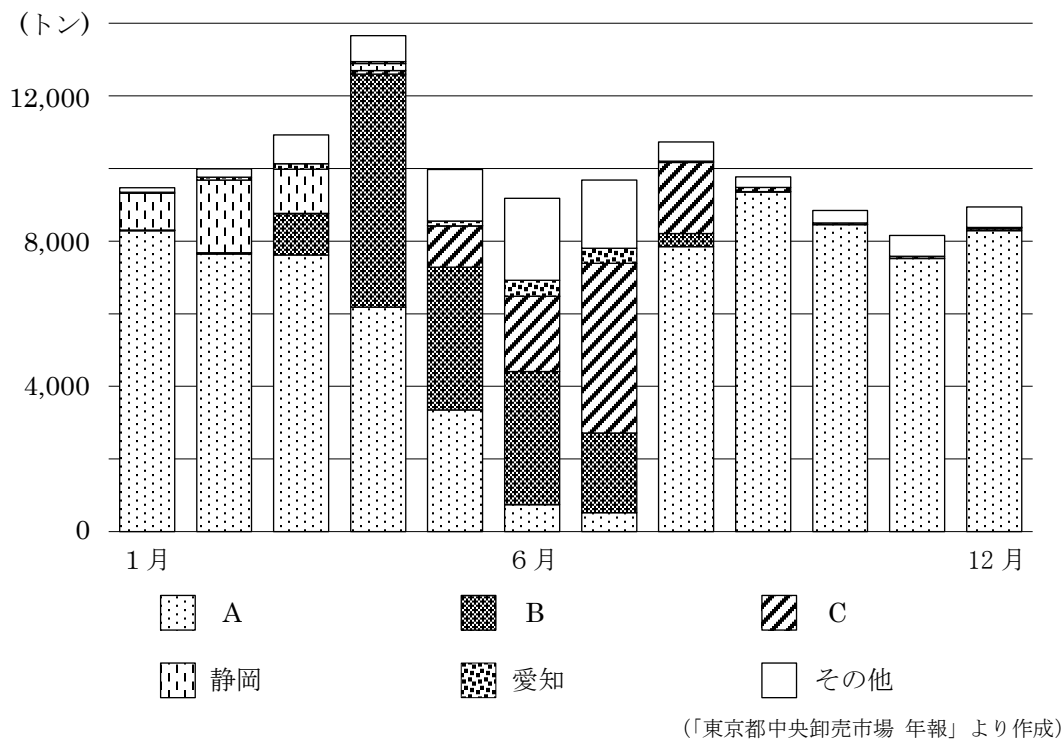


図5 東京都中央卸売市場の月別入荷実績（2020年）

(1) 図4・図5を参考にしながら、記事中の空欄  ～  に当てはまる都道府県名を、**漢字**で答えなさい。

(2) 記事中の下線部の「産地リレー」という考え方は、たまねぎ以外でもみられます。国内の生産地で「産地リレー」がみられる農作物として最もふさわしいものを、次の(ア)～(エ)から1つ選び、記号で答えなさい。

(ア) レタス      (イ) 茶      (ウ) 米      (エ) みかん

2 アメリカ合衆国に関して、あとの問いに答えなさい。

問1 次の図1は、アメリカ合衆国の本土とその周辺を示したものです。国際連合の本部の所在地であり、アメリカ合衆国で人口が最も多い都市の位置を、図1中の(ア)～(オ)から1つ選び、記号で答えなさい。また、その都市の名前を答えなさい。



図1

問2 アメリカ合衆国の産業に関して述べた次の文 X・Y の正誤の組み合わせとして正しいものを、下の(ア)～(エ)から1つ選び、記号で答えなさい。

X 大型機械を使った大規模農業が行われ、小麦や大豆は世界中に輸出されている。

Y 宇宙開発の分野では世界をリードしており、最先端さいせんたんの研究や開発が進んでいる。

	(ア)	(イ)	(ウ)	(エ)
X	正	正	誤	誤
Y	正	誤	正	誤

問3 アメリカ合衆国では情報通信技術の分野が発達していますが、同国との関係性を活かして、インドでも情報通信業が成長しています。次の図2を見て、両国の関係性について述べた下の文章中の空欄（A）に当てはまる語句を答え、空欄 **B** を10字程度で補いなさい。なお、図2の縦線は経線、横線は赤道を示しています。

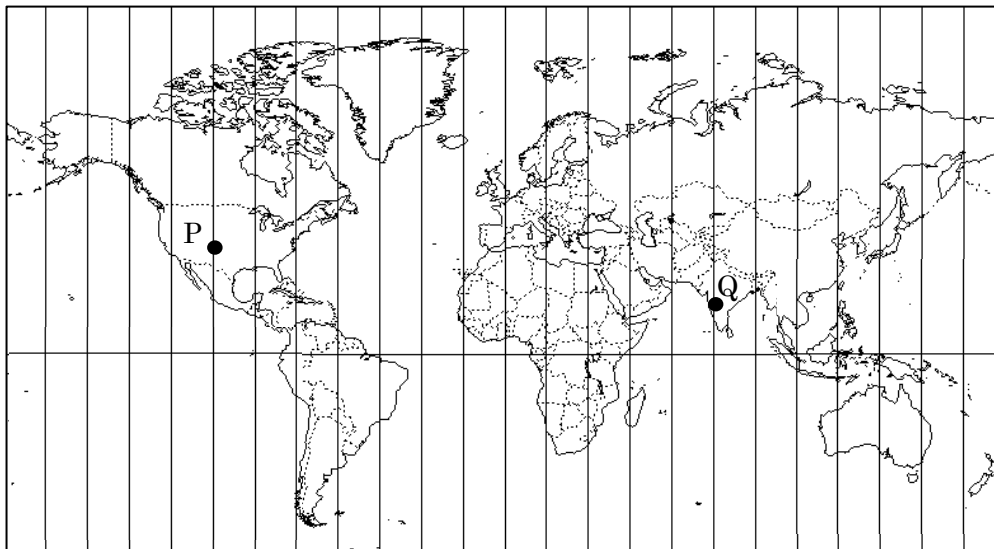


図2

インドは植民地時代の影響もあり、（A）を準公用語\*としているために、アメリカ合衆国の企業との連携が取りやすいです。さらに地図を見ると、アメリカ合衆国の都市Pとインドの都市Qでは **B** ため、アメリカ合衆国の都市Pの企業が終業時にインドの都市Qの企業に仕事を引き継ぐことで、効率的に作業ができます。

\*準公用語…公用語に次いで使われる言語

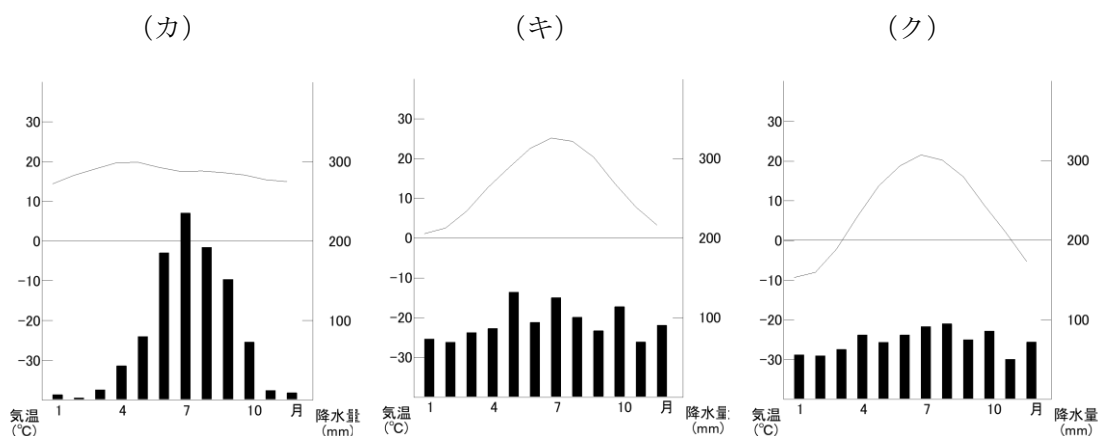


問4 次の表中の(ア)～(ウ)は、アメリカ合衆国とその隣国であるカナダ・メキシコのいずれかの国の2020年の人口と人口密度を示しています。また、下の図3の(カ)～(ク)は、アメリカ合衆国・カナダ・メキシコのいずれかの国の首都の気温と降水量を示しています。各国の首都の位置に関する文を参考にしながら、アメリカ合衆国に当てはまるものを、表中の(ア)～(ウ)、図3の(カ)～(ク)からそれぞれ1つずつ選び、記号で答えなさい。

表

	(ア)	(イ)	(ウ)
人口(千人)	37,742	128,933	331,003
人口密度(人/km <sup>2</sup> )	4	66	34

(『データブック 2022』より作成)



(「気象庁ホームページ」より作成)

図3

<各国の首都の位置>

アメリカ合衆国：北緯 39 度，西経 77 度に位置し，標高は約 125m である。

カナダ：北緯 45 度，西経 76 度に位置し，標高は約 70m である。

メキシコ：北緯 19 度，西経 99 度に位置し，標高は約 2,240m である。

3

岡山県内の学校に通うイズミさんが、県外に住んでいる友達のハヤトさんに、学校の授業で行われた岡山県の郷土学習<sup>きょうど</sup>について話しています。次の会話文を読んで、あとの問いに答えなさい。

イズミ：この前学校の授業で、郷土学習として岡山県の伝統<sup>でんとう</sup>や歴史について学習したよ。

ハヤト：具体的には何について学習したの？

イズミ：まず備前焼<sup>びぜんやき</sup>について学んで、校外学習で土ひねり体験をしてきたよ。

ハヤト：備前焼の名前は聞いたことがあるけど、どんなものかはあまり知らないな。

イズミ：備前焼は、岡山県備前市伊部<sup>いんべ</sup>を中心に作られている、とても長い歴史を持つ陶器<sup>とうき</sup>だよ。今でも①愛知県<sup>あいち</sup>の瀬戸焼や、滋賀県<sup>しが</sup>の信楽焼などととも、日本を代表する六古窯<sup>ろくこよう</sup>の1つに数えられているの。

ハヤト：備前焼は、いつ頃誕生<sup>たんじょう</sup>したの？

イズミ：諸説<sup>しよせつ</sup>あるけど、その起源<sup>きげん</sup>は②古墳時代<sup>こふん</sup>に用いられた土器<sup>どき</sup>にあって、より実用的で耐久性<sup>たいきゆう</sup>をもつ陶器<sup>とうき</sup>として、③平安時代<sup>へいあん</sup>末期から鎌倉時代<sup>かまくら</sup>にかけて本格的<sup>ほんかくてき</sup>に作られるようになったみたい。備前焼は、絵巻<sup>えまき</sup>『一遍上人<sup>いつべん</sup>絵伝』の備前福岡市<sup>びぜんふくおか</sup>の場面の中でも描かれているよ。実は九州の福岡という地名は、この備前の福岡<sup>ゆらい</sup>を由来としているんだ。④豊臣秀吉<sup>とよとみひでゆき</sup>らに仕えた黒田官兵衛<sup>くろだかんべえ</sup>の息子<sup>なご</sup>長政<sup>ながまさ</sup>が、⑤関ヶ原<sup>せきがはら</sup>の戦い<sup>いくさ</sup>の功績<sup>こうせき</sup>で与えられた筑前<sup>ちくぜん</sup>の城<sup>しろ</sup>を、自分たちがもともと住んでいた備前の福岡にちなんで、福岡城と名付けたのがそのはじまりとされているんだよ。

ハヤト：そのようなつながりがあったんだ。

イズミ：日本の地名をくわしく調べてみると、これまでの歴史が深く関係しているものがたくさんあって、とてもおもしろいよ。

ハヤト：備前焼以外には、どんなことを学習したの？

イズミ：岡山県出身の人物についても学習したよ。そのうちの1人が、現在の総社市<sup>そうじゃ</sup>に生まれた⑥雪舟<sup>せつしゅう</sup>で、彼は当時の室町文化<sup>むろまち</sup>に大きな影響<sup>えいきやう</sup>を与えたみたい。

ハヤト：僕も自分の住んでいる地域について、また調べてみようかな。

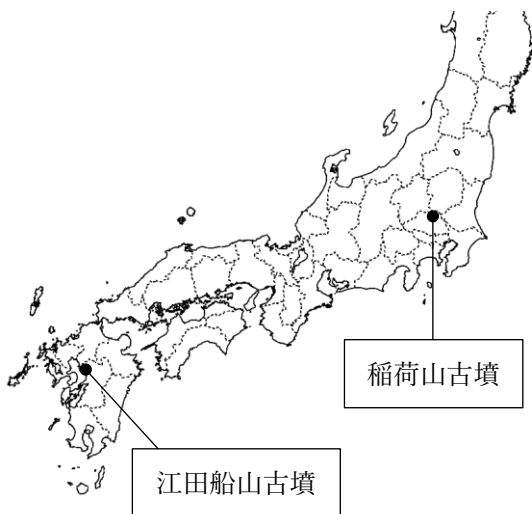
問1 下線部①について、尾張（愛知県）出身の織田信長は、室町幕府をほろぼした後、当時の交通の要所を、天下統一に向けての本拠地としました。これについて、あとの問いに答えなさい。

- (1) 本拠地の地名を漢字で答えなさい。
- (2) (1)の位置として正しいものを次の地図中の（ア）～（エ）から1つ選び、記号で答えなさい。ただし、地図中の境界線は、現在の都道府県の境界をあらわしています。




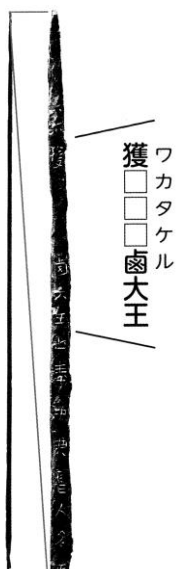
問2 下線部②について、当時作られた前方後円墳の代表例として、<sup>いなりやま</sup>稲荷山古墳と<sup>え、たふなやま</sup>江田船山古墳があげられます。これらの古墳の位置や、出土品に関する次の資料A～Cから読み取れることにふれながら、5世紀頃の大和政権の勢力範囲について50字以内で説明しなさい。

資料A 稲荷山古墳と江田船山古墳の位置



資料B 江田船山古墳から出土した鉄刀

資料C 稲荷山古墳から出土した鉄剣



問3 下線部③について、この時代に関して述べた次の文 X・Y の正誤の組み合わせとして正しいものを、下の (ア) ～ (エ) から1つ選び、記号で答えなさい。

- X <sup>ふじわら</sup>藤原氏は、自身のむすめを<sup>てんのう</sup>天皇のきさきとし、<sup>ちやうてい</sup>天皇とのつながりを強くすることで、朝廷の政治を動かすようになった。
- Y 古くからの日本人の考え方を明らかにする<sup>こくがく</sup>国学がさかんとなり、<sup>もとおりのりなが</sup>本居宣長の『古事記伝』などの書物が生まれた。

	(ア)	(イ)	(ウ)	(エ)
X	正	正	誤	誤
Y	正	誤	正	誤

問4 下線部④について、<sup>くौरん</sup>豊臣秀吉に関する次の文章の空欄に当てはまる語句を漢字で答えなさい。

豊臣秀吉は、( ) に2度も軍隊を送りこみました。その結果、そこでは多くの人が<sup>ぎせい</sup>犠牲となったり、日本に連れ去られたりしました。そのなかには<sup>とうこう</sup>陶工もおり、彼らによって、日本で<sup>ありたやき</sup>有田焼や<sup>はぎ</sup>萩焼などのすぐれた焼き物がつくられるようになりました。

問5 下線部⑤について、<sup>えどぼくふ</sup>関ヶ原の戦い以降に成立した江戸幕府に関して述べた文として正しいものを、次の (ア) ～ (エ) から1つ選び、記号で答えなさい。

- (ア) 朝廷の力を借り、天皇中心の国づくりを目指した。
- (イ) 幕府内の対立により、<sup>おうにん</sup>応仁の乱がおこり、幕府の<sup>けんりよく</sup>権力が<sup>おとろ</sup>衰えた。
- (ウ) 幕府は、成立した当初、商人たちに<sup>しゆいんじやう</sup>朱印状をあたえ、外国との貿易を保護した。
- (エ) 武士の<sup>さいばん</sup>裁判の<sup>ほうりつ</sup>基準となる法律として、<sup>ごせいばいしきもく</sup>御成敗式目を定めた。

問6 下線部⑥について、雪舟の作品として正しいものを次の(ア)～(エ)から1つ選び、記号で答えなさい。

(ア)




(イ)



(ウ)



(エ)



《このページには問題はありません》

4

次の資料は「明治時代の国家形成」についてまとめたノートです。これに関するあとの問いに答えなさい。

### 明治時代の国家形成

#### \*新政府の改革の特徴：中央集権化と西欧化

- ・江戸時代までの身分制度を改め、法の下での平等を実現しようとした
- ・ ① 【内容】日本全国に政府が任命した役人を派遣し、地方が政府の方針に従うようにした
- ・②地租改正 【目的】殖産興業や徴兵令に基づく近代的軍隊の創設を支える財政基盤をつくりあげるため
- ・③学制の公布
- ・④大日本帝国憲法の発布と国会の開設

#### \*外交方針：国際的地位の向上と条約改正の実現

(主な出来事)

- ・岩倉使節団を派遣する 【結果】条約改正交渉は成功せず
- ・鹿鳴館を建設する 【目的】日本の積極的な西欧化を海外に示すため
- ・ノルマントン号事件が起きる 【結果】条約改正を望む声が高まった
- ・日英同盟を結ぶ 【目的】ロシアに対抗するため
- ・⑤日清戦争、⑥日露戦争が起こる 【結果】日本の勝利→日本の国際的地位が向上した
- ・条約改正が実現する 【結果】欧米諸国と完全に対等な国家となった

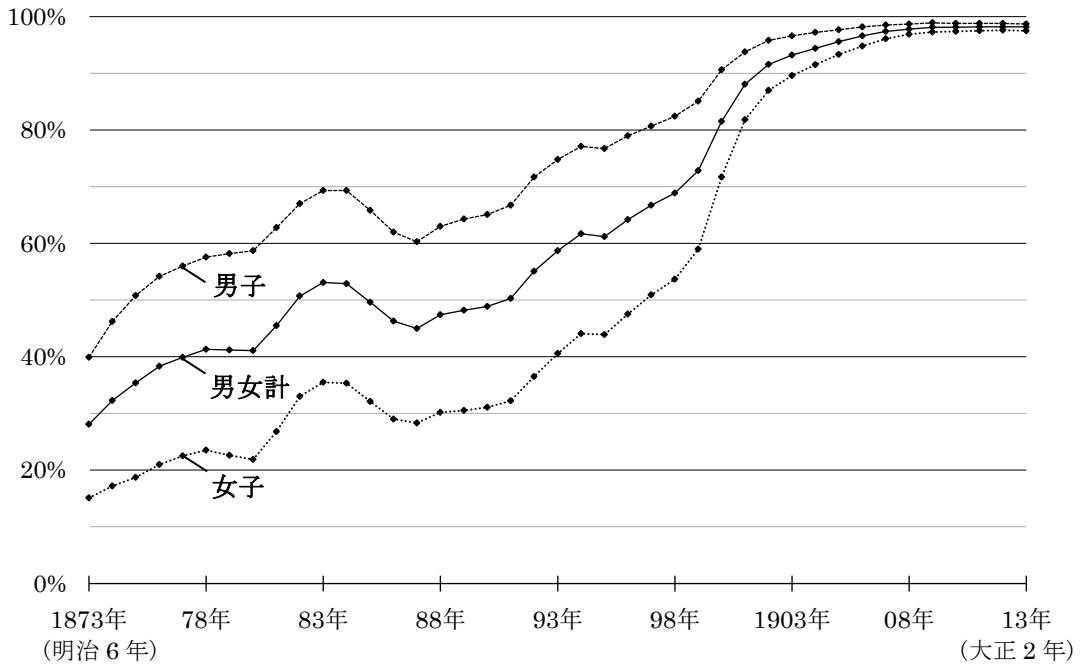
問1  空欄 ① に当てはまる明治新政府の改革を漢字4字で答えなさい。

問2 下線部②について、次の文章は地租改正以前と地租改正以降の税収のあり方についてまとめたものです。文章中の空欄に当てはまる内容を5字以内で補いなさい。

地租改正以前は、その年の収穫高に基づいて課税されたため、天候など自然条件によって収穫高が左右され、政府の収入は不安定だった。それに対して、地租改正以降は、 に基づいて課税されたため、収穫高によらず、政府は安定した収入を得られるようになった。



問3 下線部③について、次のグラフは学制公布後の1年ごとの就学率の変化を示したものです。このグラフから読み取れることを述べた文として正しいものを、次の(ア)～(エ)から1つ選び、記号で答えなさい。



(文部科学省「学制百年史」より作成)

- (ア) 西南戦争が起こった年の就学率は、男子で70%を超えている。
- (イ) 大日本帝国憲法が発布された年の就学率は、女子で20%未満である。
- (ウ) 日清戦争が始まった年の就学率は、男女計で50%を超えている。
- (エ) 日露戦争が始まった年の就学率は、男子、女子ともに90%未満である。

問4 下線部④について、大日本帝国憲法や国会の開催<sup>かいさい</sup>などに関連して述べた文として正しいものを、次の(ア)～(エ)から1つ選び、記号で答えなさい。

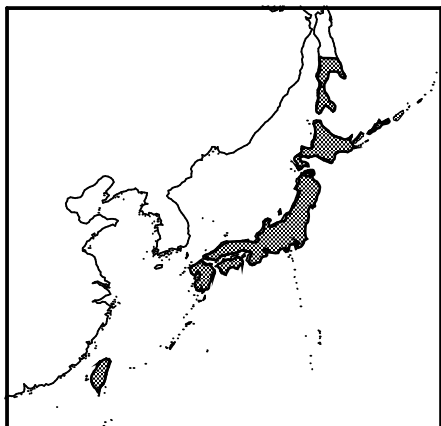
- (ア) 大日本帝国憲法では、天皇が国を治める主権をもち、軍隊の指揮や統率をおこなうなど、のちの日本国憲法に比べて天皇の権限が強かった。
- (イ) 大日本帝国憲法では、言論や思想の自由は、おこなうことのできない永久の権利として保障されていた。
- (ウ) 自由民権運動が進展していく中で、国会の開設に備え、板垣退助<sup>いたがきたいすけ</sup>は立憲改進黨を、大隈重信<sup>おおくま しげのぶ</sup>は自由党をそれぞれ創設した。
- (エ) 第1回衆議院議員選挙の有権者は、国税を一定以上納めている満25歳<sup>さい</sup>以上の男性に限られており、全人口の約20%にしか参政権<sup>あた</sup>が与えられなかった。

問5 下線部⑤について、日清戦争の講和条約<sup>めいしょう</sup>の名称とその条約を結ぶ際に活躍<sup>かつやく</sup>した外務大臣の組み合わせとして正しいものを、次の(ア)～(エ)から1つ選び、記号で答えなさい。

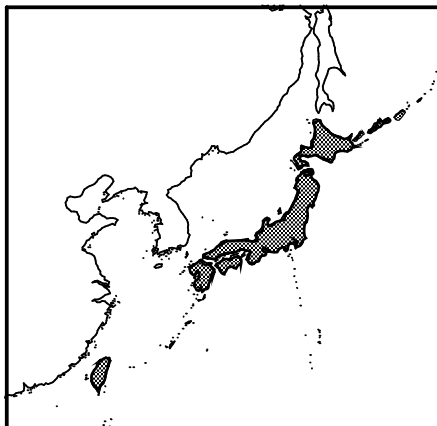
- (ア) 講和条約：ポーツマス条約      外務大臣：陸奥宗光<sup>むつむねみつ</sup>
- (イ) 講和条約：ポーツマス条約      外務大臣：小村寿太郎<sup>こむらじゅたろう</sup>
- (ウ) 講和条約：下関条約            外務大臣：陸奥宗光
- (エ) 講和条約：下関条約            外務大臣：小村寿太郎

問6 下線部⑥について、日露戦争の講和条約が結ばれた時点での日本の領域を示した地図として正しいものを、次の(ア)～(エ)から1つ選び、記号で答えなさい。なお、地図中のぬりつぶされた部分が、日本の領域を示しています。

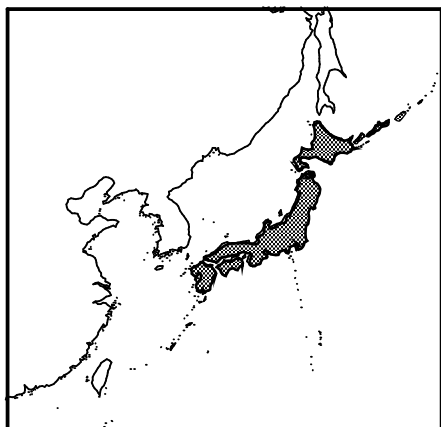
(ア)



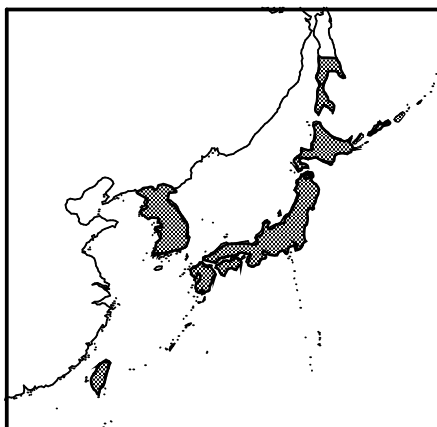
(イ)



(ウ)



(エ)



5

次の文章を読んで、あとの問いに答えなさい。

①2022年6月22日に第26回参議院議員選挙が公示され、7月10日に投開票が行われました。選挙権は、国民にとって政治に対する意見を表明する大切な権利として憲法で守られています。今回の選挙は、自由民主党などの憲法改正に前向きな政党が議席数を伸ばしました。

②日本国憲法は（A）年11月3日に公布されて以来、一度もその内容は改正されていません。しかし、時代の流れに合わせて、憲法の内容を変えようという意見も出ています。例えば、三大原則の1つである（B）について示した第9条の内容を見直すべきだ、というものです。この条文では、日本が戦争を起こすことや、そのための武力を所持することを禁止することが定められています。しかし、他国との外交関係を考えた上で、憲法解釈の枠内で法律の整備がなされることもありました。例えば、③国際連合が取り組んでいる紛争発生地域への支援について、日本はもともと経済的な支援しか行っていませんでしたが、1992年には自衛隊を現地に派遣できるよう、法律をつくりました。

このように、政治の決定は私たちを取り巻く社会を左右します。そのため、私たちは選挙を通して政治について考え、選択をする必要があります。しかし、④最近では選挙の投票率が低迷していることが問題視されており、その解決を迫られています。

問1 文中の空欄（A）に当てはまる数字を答えなさい。また、空欄（B）に当てはまる語句を漢字で答えなさい。

問2 下線部①について、この年はアメリカから日本のある地域が返還されて50周年にあたります。返還された地域は現在の何県にあたるか、漢字で答えなさい。

問3 下線部②について、あとの問いに答えなさい。

(1) 日本国憲法で定められている国会の役割や三権分立に関して述べた文として正しいものを、次の(ア)～(エ)から1つ選び、記号で答えなさい。

(ア) 国会議員によって提出された法律案は、衆議院と参議院の両方で可決された後、内閣総理大臣によって公布される。

(イ) 国会には、法律を制定すること以外にも、外国と結んだ条約を承認することや市町村ごとに適用する条例を制定するなどの役割がある。

(ウ) 国会は、内閣総理大臣を指名することや内閣不信任を決議することができる一方で、内閣総理大臣は衆議院を解散させることができる。

(エ) 国会は、最高裁判所の長官を指名することができる一方で、裁判所は国会の制定する法律が憲法に違反していないかを審査することができる。

(2) 次の文章は、国民に保障される基本的人権に含まれる権利について定められた第25条の条文を示しています。資料中の空欄に当てはまる語句を6字で答えなさい。

- |   |                                                     |
|---|-----------------------------------------------------|
| 1 | すべて国民は、( )な最低限度の生活を営む権利を有する。                        |
| 2 | 国は、すべての生活部面について、社会福祉、社会保障、及び公衆衛生の向上及び増進に努めなければならない。 |

問4 下線部③について、あとの問いに答えなさい。

- (1) 次の文章は、国際連合が結成される際に採択された国連憲章の第24条の一部です。文章中の空欄には、国際連合のある組織が当てはまります。この組織の正式名称を漢字で答えなさい。

(前略) 国際連合加盟国は、国際の平和及び安全の維持に関する主要な責任を ( ) に負わせるものとし、… (以下略)
---------------------------------------------------------------

- (2) 次の資料は、国際連合によって採択されたある条約の要点をまとめたものです。資料が示す条約の内容の実現を目指して活動している国際連合の組織を答えなさい。

子どもに認められる権利	内容
生きる権利	住む場所や食べ物があり、医療が受けられるなど、命が守られること。
育つ権利	教育を受けられ、自分の考えや信念が守られて、自分らしく育つことができること。
守られる権利	虐待や搾取から守られ、障がいのある子どもや少数民族の子どもなどは特別に守られること。
参加する権利	自由に意見を表したり、団体を作ったり、自由な活動を行ったりできること。

問5 下線部④について、次の表は1993年から2021年までに行われた衆議院議員選挙の投票率の変化を年代別にまとめたものです。これをもとに述べた文として誤っているものを、下の(ア)～(エ)から1つ選び、記号で答えなさい。

表

年	1993	1996	2000	2003	2005	2009	2012	2014	2017	2021
回	40	41	42	43	44	45	46	47	48	49
10代	—	—	—	—	—	—	—	—	40.4	43.2
20代	47.4	36.4	38.3	35.6	46.2	49.4	37.8	32.5	33.8	36.5
30代	68.4	57.4	56.8	50.7	59.7	63.8	50.1	42.0	44.7	47.1
40代	74.4	65.4	68.1	64.7	71.9	72.6	59.3	49.9	53.5	55.5
50代	79.3	70.6	71.9	70.0	77.8	79.6	68.0	60.0	63.3	62.9
60代	83.3	77.2	79.2	77.8	83.0	84.1	74.9	68.2	72.0	71.4
70代以上	71.6	66.8	69.2	67.7	69.4	71.0	63.3	59.4	60.9	61.9
全体	67.2	67.5	62.4	59.8	67.5	69.2	59.3	52.6	53.6	55.9

数値の単位はパーセント(%)

(総務省「国政選挙における投票率の推移」より作成)

- (ア) 2017年以降の選挙では、18歳以上の男女に選挙で投票する権利が与えられた。  
 (イ) 1993年から2021年にかけて、20代の投票率が最も大きく下がった。  
 (ウ) 阪神淡路大震災が起きた翌年の選挙では、全体の投票率は前回より上がった。  
 (エ) 東日本大震災が起きた翌年の選挙では、40代の投票率は6割を下回った。