

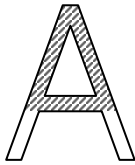

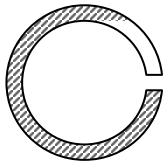
令和2年度 岡山白陵中学校入学試験 理科 解答用紙

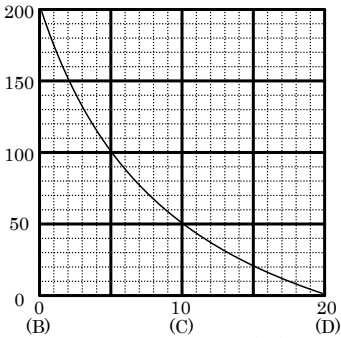
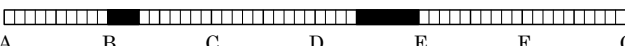
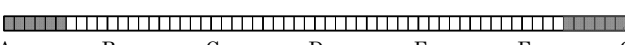
1	問 イ, エ	問 ウ, カ	問 ① 呼吸	問 ② 二酸化炭素	小計 15点
1	問 イ	問 ア	ア → ウ → イ → エ → オ		
4	自分の腹にあるふくろの中から得る。				問 ウ
7					8

2	問 ウ, オ	問 (1) D	問 (2) B	問 (3) ア	小計 16点
1	問 ウ	問 (1) エ	問 (2) ア, カ		
3	黄色でないトウモロコシの実を与え				
5					

3	問 ウ	問 ウ	問 (1) ア	問 (2) カ	小計 16点
1	問 ア	問 ア	問 ア, ウ	問 ウ	
4					

4	問 C	問 イ	問 -13.2 °C	問 6.4 g	問 イ,ウ,カ
1	問 0 °C	問 イ	問 カ	問 8 g	小計 19点
6					

5	問 (1) (イ・ウ) → オ → エ → ア	問 (1) 	問 (2) 	問 (3) 	
1	問 (2) ア → オ → イ → ウ → エ	問 2			
3	問 ウ → (イ・エ) → (ア・オ)	問 ①	問 イ	問 ②	問 ウ
4					問 ③
5	問 (a) ウ	問 (b) ア	問 (c) ア, イ, ウ		小計 18点

6	問 イ	問 ウ	問 200 g		小計 16点
1					
4	問 最も重いおもりの重さ(g)		問 20 ~ 1700 g		
5	問 		問 例：Aからの距離がGに向けて、10cm～13cmと34cm～40cmの2つの範囲が答だと考えたときは、下のように2カ所を塗りつぶさない。		
6	問 		問 		

受験番号	
------	--

得点	100点
----	------